

896 + 7

6. Do rámečku запиš takové příklady, jejichž výsledek je číslo 903:

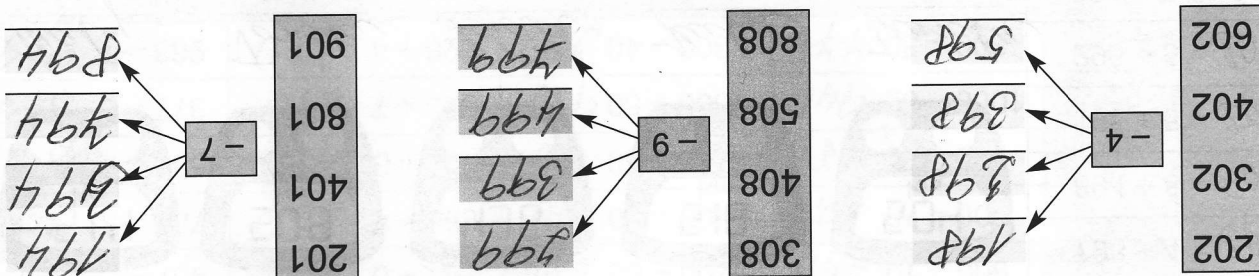
$$\frac{136 \text{ Kč}}{4} = 34 \text{ Kč}$$

$$4 \times 25 \text{ Kč} = 100 \text{ Kč}$$

$$4 \times 9 \text{ Kč} = 36 \text{ Kč}$$

5. Reš slovní úlohu, navrhni postup: Ptáčkovi si zašli do cukrárny. Objednali si 4 malé zákusky po devíti korunách a 4 dzusy po dvaceti pěti korunách. Kolik korun celkem zaplatili?

5. Reš slovní úlohu, navrhni postup:



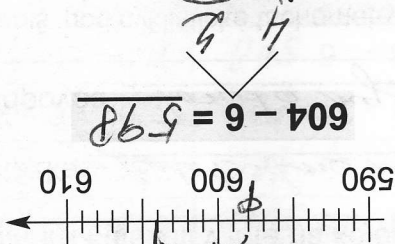
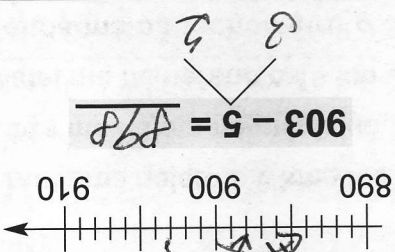
4. Vypočítej:

V cukrárně prodali od pondělka do pátku 407 kopečků zmrzliny. Za víkend pak prodali o 8 kopečků méně než v pracovní dny. Kolik kopečků zmrzliny prodali během víkendu?

2. Reš slovní úlohu:

$$407 - 8 = 399$$

3. Vypočítej pomocí číselných os nebo pomocí rozkladu:



1. Vypočítej:

$600 - 1 = 599$	$800 - 5 = 795$	$200 - 4 = 196$
$400 - 8 = 392$	$500 - 3 = 497$	$700 - 9 = 691$
$300 - 6 = 294$	$400 - 1 = 399$	$400 - 6 = 394$
$200 - 4 = 196$	$700 - 9 = 691$	$200 - 1 = 199$
$900 - 0 = 900$	$300 - 2 = 298$	$900 - 4 = 896$
$100 - 7 = 93$	$700 - 9 = 691$	$800 - 9 = 791$