

1. Řeš slovní úlohu:

Stropy ve školní tělocvičně jsou ve výšce 720 cm od podlahy. Stropy v učebnách jsou o 300 cm nižší. V jaké výšce od podlahy jsou stropy v učebnách?

Tv 720 cm
Uč o 300 cm nižší
 $720 - 300 = 420$

V učebnách jsou stropy ve výšce 420 cm od podlahy.

2. Vypočítej:

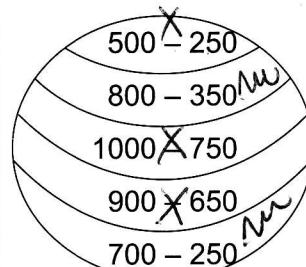
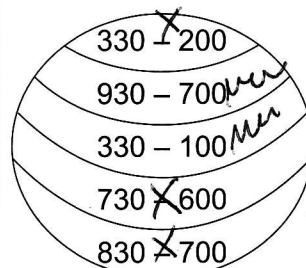
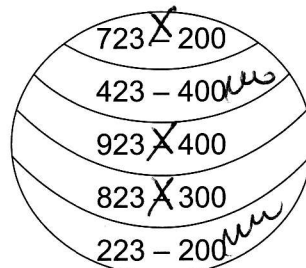
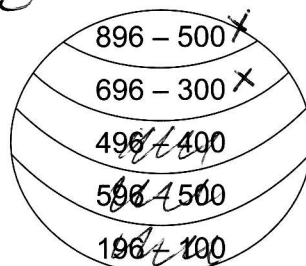
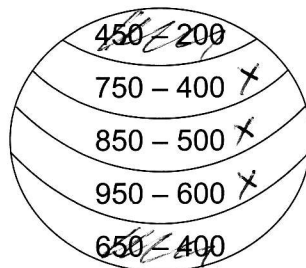
800 - 300 = 500 880 - 300 = 580 884 - 300 = 584
 400 - 200 = 200 420 - 200 = 220 427 - 200 = 227
 600 - 500 = 100 630 - 500 = 130 635 - 500 = 135
 900 - 900 = 0 960 - 900 = 60 962 - 900 = 62
 700 - 400 = 300 710 - 400 = 310 711 - 400 = 311

3. Řešte společně zajímavou úlohu, v jakém pořadí se umístili jednotliví závodníci. Zde jsou jejich odpovědi:

Alex: *Já jsem byl hned za vítězem*
 Boris: *Já jsem se umístil uprostřed*
 Cyril: *Já jsem byl druhý za Alexem*
 Emil: *Já jsem dostal medaili*
 David: *Chtěl jsem se umístit lépe*

1. místo: David
 2. místo: Cyril
 3. místo: Alex
 4. místo: Emil
 5. místo: Boris

5. Vybarvi na míčích stejnou barvou proůžky, jejichž příklady mají stejný výsledek:



4. Opakuj si:

$3 \cdot 5 = 15$	$2 \cdot 9 = 18$	$9 \cdot 7 = 63$	$21 : 3 = 7$	$90 : 10 = 9$
$6 \cdot 7 = 42$	$0 \cdot 7 = 0$	$2 \cdot 5 = 10$	$15 : 3 = 5$	$81 : 9 = 9$
$9 \cdot 6 = 54$	$8 \cdot 5 = 40$	$1 \cdot 8 = 8$	$9 : 3 = 3$	$32 : 4 = 8$